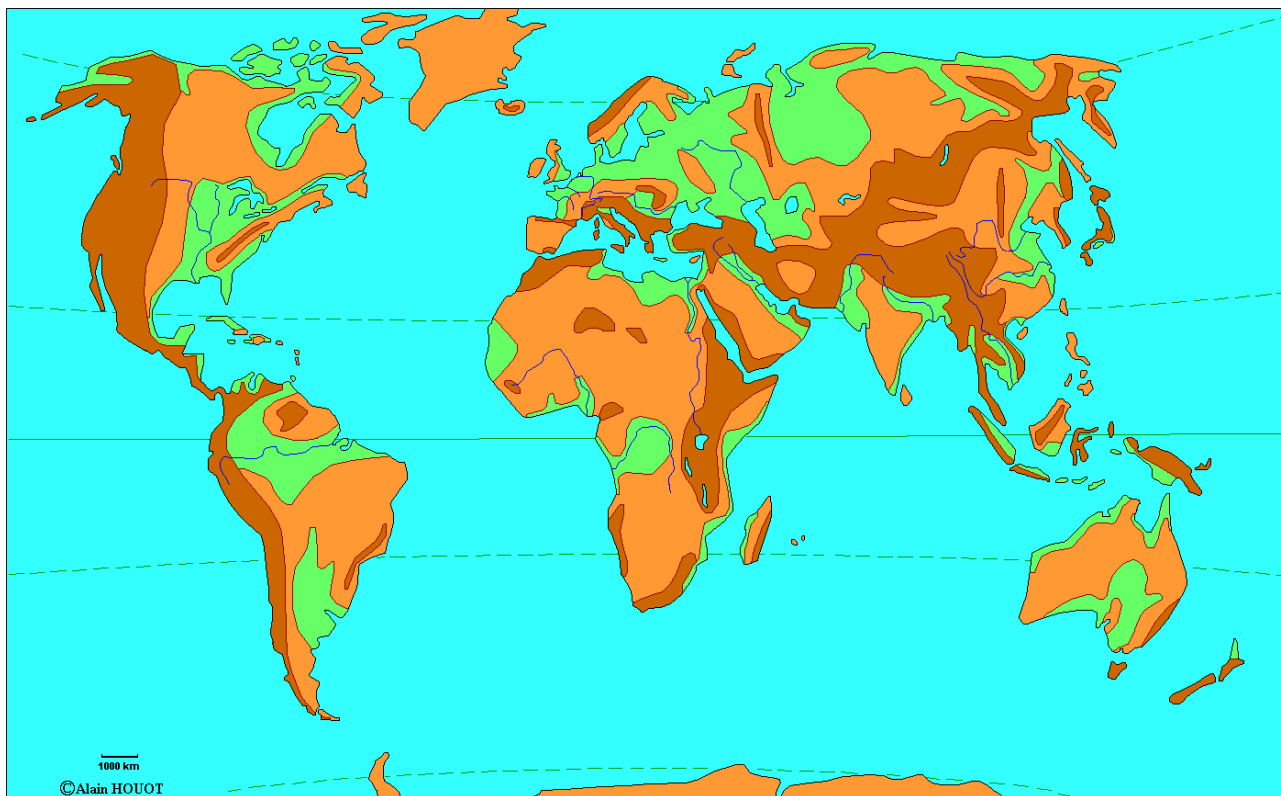


DEUXIEME PARTIE : GEOGRAPHIE (13 points)

I. QUESTIONS (6 points)

1. Replaces sur le fond de carte : 2 océans – 2 chaînes de montagne – 2 lignes imaginaires – 2 déserts (chauds ou froids) – 2 fleuves (4 pts)



2. Définit l'étalement urbain ou périurbanisation. (1 pt)

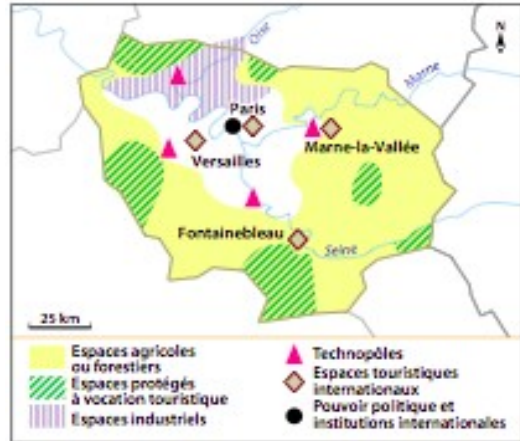
Développement de l'espace urbain en périphérie des villes (sur des espaces ruraux limitrophes)

3. Donne deux raisons qui expliquent ce phénomène de périurbanisation. (1 pt)

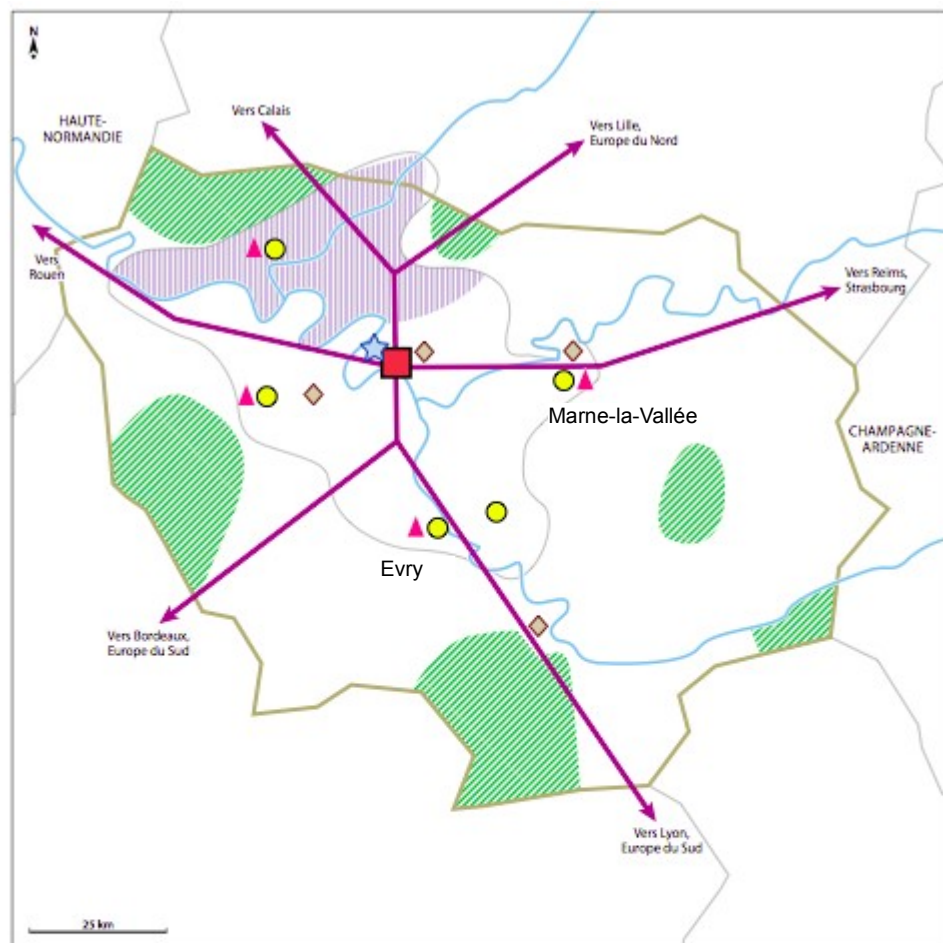
Coût du logement

Cadre de vie plus agréable (espaces verts, moins de pollution, d'entassement...)

II. TRAVAIL SUR DOCUMENT (7 points)



1. Grâce à tes connaissances et aux informations données par les documents, complète ce croquis et sa légende. (3 pts)



Titre: L'organisation du territoire de l'Ile-de-France

Légende

I. Activités, pôles et espaces dynamiques

- Aire urbaine parisienne
-
- ▲
- ★
- ||||| Espaces industriels
- Espaces agricoles ou forestiers
- ////

II.

-
- Voies navigables
- Aéroports

III. Un rayonnement national et international

-
- ◆
- Pouvoir politique et institutions internationales

2. D'après les documents et le croquis, quelle est la particularité du réseau de transport routier et ferroviaire en Ile-de-France ? (1 pt)

Il est centré sur Paris/ en étoile ou toile d'araignée

3. Afin de remédier à cela, quel projet est en cours dans la région ? (1 pt)

Projet du Grand Paris Express

4. Grâce aux documents, montre par deux éléments et des exemples, que la région Ile-de-France a une influence économique et culturelle mondiale. (2 pts)

Économie : La Défense : 1er quartier d'affaire européen
Culture : tourisme + ex ou capitale de la mode ou du luxe